



**Tento materiál byl vytvořen v rámci projektu Operačního programu
Vzdělávání pro konkurenceschopnost.**

Projekt MŠMT ČR	EU PENÍZE ŠKOLÁM
Číslo projektu	CZ.1.07/1.4.00/21.2146
Název projektu školy	Inovace ve vzdělávání na naší škole ZŠ Studánka
Klíčová aktivita III/2	Inovace a zkvalitnění výuky prostřednictvím ICT

Sada č. IV

Identifikátor DUM: VY_32_INOVACE_SADA IV_CJS , DUM

Vzdělávací oblast: Člověk a jeho svět

Vzdělávací obor: Člověk a jeho svět

Název: Savci, 2. ročník

Autor: Mgr. Monika Březinová

Stručná anotace: Opakování učiva o savcích, základní charakteristika, pozorování vybraného jedince, doplňování pracovního listu

Metodické zhodnocení: Této hodině předcházelo domácí pozorování a poznámky, z kterých při vyučování děti vytvořily samostatné závěry. K tomu jim sloužil pracovní list. Hodina proběhla 9. 6. 2011 ve třídě 2. A.




INVESTICE DO ROZVOJE VZDĚLÁVÁNÍ

Savci

1. Pozoruj zvíře a výsledky pozorování zaznamenej do tohoto pracovního listu.

Kolik má nohou?	
Má srst nebo peří?	
Jak je velké?	
Co rádo jí?	
Co rádo pije?	
Jak se pohybuje?	
Spí ve dne nebo v noci?	
Má rádo člověka nebo se ho bojí?	
Jakou činnost dělalo nejčastěji?	

2. Nakresli obrázek zvířete, které jsi pozoroval(a).



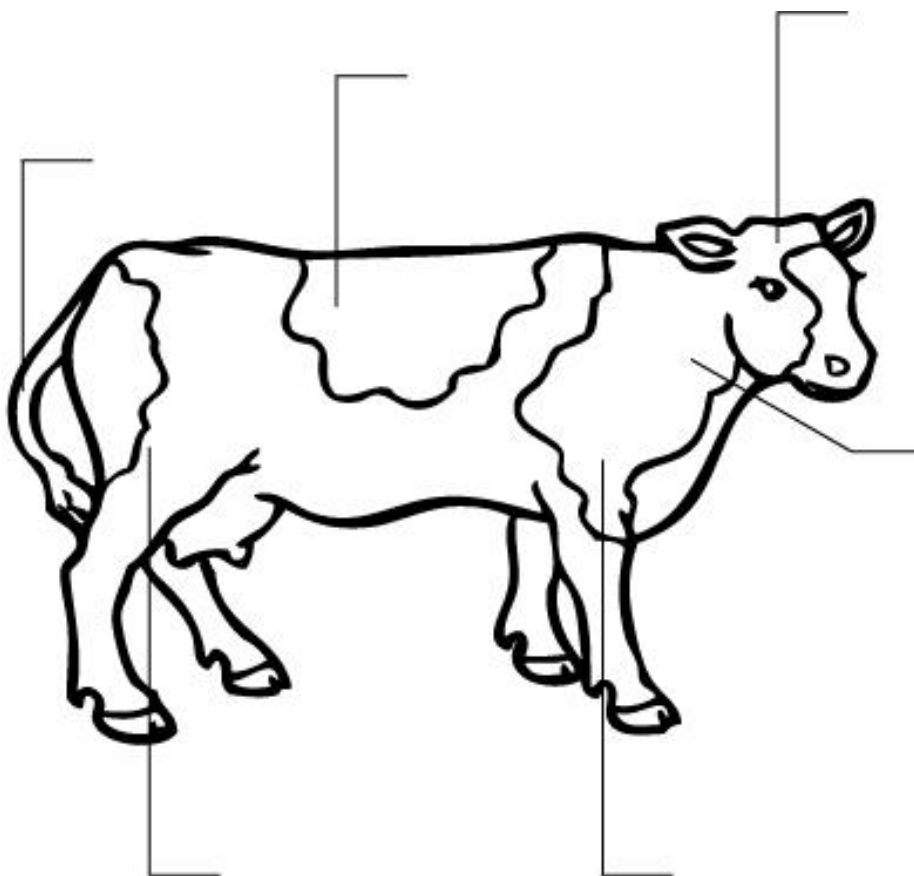
Pozoroval(a) jsem

.....,
 žije s námi doma – žije ve volné
 přírodě.

3. Vyber správnou odpověď.

Savci rodí živá mláďata.	ANO	NE
Po narození sají mateřské mléko.	ANO	NE
Tělo mají většinou pokryté srstí.	ANO	NE
Mají přední a zadní končetiny.	ANO	NE
Žijí na souši.	ANO	NE
Žijí ve vodě.	ANO	NE
Dýchají plicemi.	ANO	NE
Živí se masem nebo rostlinami nebo hmyzem.	ANO	NE

4. Doplň správnou část těla.



Vyber z nabídky: *hlava, krk, trup, ocas, zadní končetiny, přední končetiny.*


ŘEŠENÍ**Savci**

Pozorovací část 1 a 2 vyplňuje žák samostatně, dle svého pozorování.

1. Pozoruj zvíře a výsledky pozorování zaznamenej do tohoto pracovního listu.

Kolik má nohou?	
Má srst nebo peří?	
Jak je velké?	
Co rádo jí?	
Co rádo pije?	
Jak se pohybuje?	
Spí ve dne nebo v noci?	
Má rádo člověka nebo se ho bojí?	
Jakou činnost dělalo nejčastěji?	

2. Nakresli obrázek zvířete, které jsi pozoroval(a).



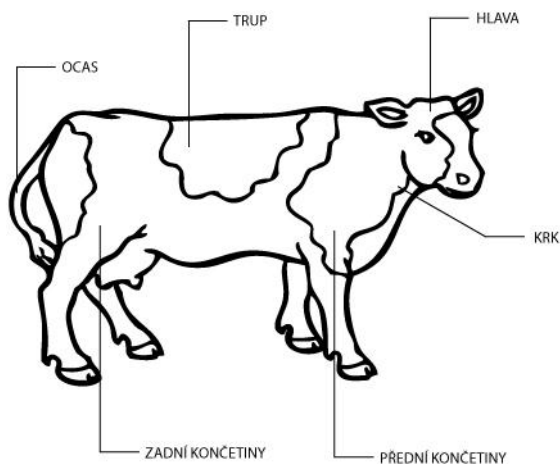
Pozoroval(a) jsem

.....,
žije s námi doma – žije ve volné
přírodě.

3. Vyber správnou odpověď.

Savci rodí živá mláďata.	ANO	
Po narození sají mateřské mléko.	ANO	
Tělo mají většinou pokryté srstí.	ANO	
Mají přední a zadní končetiny.	ANO	
Žijí na souši.	ANO	
Žijí ve vodě.	ANO	
Dýchají plícemi.	ANO	
Živí se masem nebo rostlinami nebo hmyzem.	ANO	

4. Doplně správnou část těla.



Vyber z nabídky: *hlava, krk, trup, ocas, zadní končetiny, přední končetiny.*

